



Zipfelmaus und der wunderbare Weihnachtsplan

Finde die Vorgänger und die Nachfolger.

	14	
--	----	--

	77	
--	----	--

	83	
--	----	--

	67	
--	----	--




	42	
--	----	--

	50	
--	----	--

	25	
--	----	--

	36	
--	----	--

	99	
--	----	--

1		3	4	5	6	7	8	9	10
11	12	13	14	15	16	17		19	20
21	22	23	24	25	26	27	28	29	30
31	32	33	34	35	36	37	38	39	40
41	42	43	44		46	47	48	49	50
	52	53	54	55	56	57	58	59	60
61	62	63	64	65	66	67	68	69	70
71	72	73	74	75	76	77		79	80
81	82	83	84	85	86	87	88	89	90
91	92		94	95	96	97	98	99	

Finde die versteckten Zahlen.

- =
- =
- =
-  =
- =
- =
- =



LÖSUNGEN

Zipfelmaus und der wunderbare Weihnachtsplan

Finde die Vorgänger und die Nachfolger.

13	14	15
----	----	----

76	77	78
----	----	----

82	83	84
----	----	----

66	67	68
----	----	----









41	42	43
----	----	----

49	50	51
----	----	----

24	25	26
----	----	----

35	36	37
----	----	----

98	99	100
----	----	-----


1		3	4	5	6	7	8	9	10
11	12	13	14	15	16	17		19	20
21	22	23	24	25	26	27	28	29	30
31	32	33	34	35	36	37	38	39	40
41	42	43	44		46	47	48	49	50
	52	53	54	55	56	57	58	59	60
61	62	63	64	65	66	67	68	69	70
71	72		74	75	76	77		79	80
81	82	83	84	85	86	87	88	89	90
91	92		94	95	96	97	98	99	

Finde die versteckten Zahlen.

= 2

= 18

= 45

 = 51

= 78

= 93

= 100