

# Und alles nur wegen Renato Flash

## 4. Klasse

Gestalte vier verschiedene Trikots (= Sportleiberl) mit Farbe!

A	B	C	D
139,90 €	69,90 €	99,79 €	105,99 €

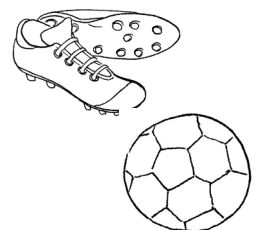
In deiner Fußballmannschaft sind 9 Spieler. Du kaufst für jeden Spieler ein Trikot und hast 1000 € zur Verfügung. Welche Trikots kannst du dir leisten?

R:


A: \_\_\_\_\_

Du gehst mit zwei Freunden zu einem Fußballverein. Jeder möchte ein Paar **Renato Flash** Fußballschuhe um 79,99 € und einen Fußball für euer Training zu Hause um 65 €. Such dir ein Trikot aus und berechne, wie viel das kostet!

R:



A: \_\_\_\_\_



# Und alles nur wegen Renato Flash

## 3. Klasse

Gestalte vier verschiedene Trikots (= Sportleiberl) mit Farbe!

A	B	C	D
19,90 €	6,90 €	9,79 €	14,99 €

Du hast zum Geburtstag 50 € bekommen. Dir gefallen diese vier Trikots so gut, dass du sie alle am liebsten kaufen möchtest. Geht sich das mit deinen 50 € aus?

R:

A:  Ja,

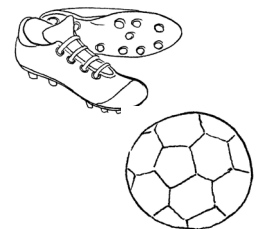
---

Nein,


---

Du schaust bei einem spannenden Fußballturnier zu. Dort spielen 6 Mannschaften. In einer Mannschaft sind immer 8 Spieler. Bis auf 2 Spieler tragen alle die neuen **Renato Flash** Fußballschuhe um 79,99 €.  
Wie viele Paar **Renato Flash** kannst du sehen?

R:



A: \_\_\_\_\_



# LÖSUNGEN

## Und alles nur wegen Renato Flash

(4. Klasse)

Gestalte vier verschiedene Trikots (=Sportleiberl) mit Farbe!

A	B	C	D
139,90 €	69,90 €	99,79 €	105,99 €

In deiner Fußballmannschaft sind 9 Spieler. Du kaufst für jeden Spieler ein Trikot und hast 1000 € zur Verfügung. Welche Trikots kannst du dir leisten?

R:  $\underline{139,90 \text{ €} \times 9}$   
 $\underline{1259,10 \text{ €}}$

$\underline{69,90 \text{ €} \times 9}$   
 $\underline{629,10 \text{ €}}$

$\underline{99,79 \text{ €} \times 9}$   
 $\underline{888,11 \text{ €}}$


$\underline{105,99 \text{ €} \times 9}$   
 $\underline{953,91 \text{ €}}$

A: Ich kann mir die Trikots B, C und D leisten.

Du gehst mit zwei Freunden zu einem Fußballverein. Jeder möchte ein Paar **Renato Flash** Fußballschuhe um 79,99 € und einen Fußball für euer Training zu Hause um 65 €. Such dir ein Trikot aus und berechne, wie viel das kostet!!

A	B	C	D
79,99 €	79,99 €	79,99 €	79,99 €
65,00 €	65,00 €	65,00 €	65,00 €
<u>139,90 €</u>	<u>69,90 €</u>	<u>99,79 €</u>	<u>105,99 €</u>
284,89 €	214,89 €	244,78 €	250,98 €
<u>284,89 € x 3</u>	<u>214,89 € x 3</u>	<u>244,78 € x 3</u>	<u>250,98 € x 3</u>
<u>854,67 €</u>	<u>644,67 €</u>	<u>734,34 €</u>	<u>752,94 €</u>





# LÖSUNGEN

## Und alles nur wegen Renato Flash

(nach dem Lesen – 3. Klasse)

Gestalte vier verschiedene Trikots (= Sportleiberl) mit Farbe!

A	B	C	D
19,90 €	6,90 €	9,79 €	14,99 €

Du hast zum Geburtstag 50 € bekommen. Dir gefallen diese vier Trikots so gut, dass du sie alle am liebsten kaufen möchtest. Geht sich das mit deinen 50 € aus?

R: 19,90 €  
6,90 €  
9,79 €  
14,99 €  
51,58 €

A:  Ja,

Nein, es geht sich mit 50 € nicht aus.

Du schaust bei einem spannenden Fußballturnier zu. Dort spielen 6 Mannschaften. In einer Mannschaft sind immer 8 Spieler. Bis auf 2 Spieler tragen alle die neuen Renato Flash Fußballschuhe um 79,99 €.  
Wie viele Paar Renato Flash kannst du sehen?

R:  $6 \times 8 = 48$      $48 - 2 = 46$

A: Ich kann 46 Paar Renato Flash Schuhe sehen.

